

**ATIVIDADE PARA ESTUDO DOMICILIAR  
20,22,23 E 24 DE ABRIL**

<b>PROFESSOR:</b> ÂNDRIA / ANGELA	<b>COMPONENTE CURRICULAR:</b> LINGUAGEM MATEMÁTICA CIÊNCIAS HUMANAS CIÊNCIAS DA NATUREZA
<b>NÍVEL DE ENSINO:</b> 1º ANO	<b>TURMA:</b> 111/112

**HABILIDADES QUE SERÃO DESENVOLVIDAS NAS ATIVIDADES**

- DESCREVER E DISTINGUIR OS SEUS PAPÉIS E RESPONSABILIDADES RELACIONADOS À FAMÍLIA, À ESCOLA E À COMUNIDADE.
- NOMEAR AS LETRAS DO ALFABETO E RECITÁ-LO NA ORDEM DAS LETRAS.
- CONTAR DE MANEIRA EXATA OU APROXIMADA, UTILIZANDO DIFERENTES ESTRATÉGIAS COM O PAREAMENTO E OUTROS AGRUPAMENTOS.
- RELACIONAR ELEMENTOS SONOROS (SÍLABAS, FONEMAS, PARTES DE PALAVRAS) COM SUA REPRESENTAÇÃO ESCRITA.
- ASSOCIAR A DENOMINAÇÃO DO NÚMERO A SUA RESPECTIVA REPRESENTAÇÃO SIMBÓLICA.
- COMPARAR CARACTERÍSTICAS DE DIFERENTES MATERIAIS PRESENTES EM OBJETOS DE USO COTIDIANO.

**ROTINA DE ESTUDOS:**

BOA TARDE FAMÍLIAS E QUERIDOS ALUNOS!

AS CRIANÇAS DEVERÃO ESCREVER A ROTINA NO CADERNO SEGUINDO O MODELO DA SALA DE AULA.

AS ATIVIDADES PODERÃO SER COPIADAS NO CADERNO OU IMPRESSAS E COLADAS.

BONS ESTUDOS!

**NÃO ESQUECER QUE O DIA 21/04/2020 TERÇA-FEIRA É FERIADO!**

**NESTA SEMANA TEMOS ENCONTRO MARCADO NO JITSI MEET.  
AULA AO VIVO.**

**QUANDO? QUARTA-FEIRA DIA 22 DE ABRIL ÀS 15H30MIN.**

**BJOS DAS PROFESSORAS ÂNDRIA E ÂNGELA.**

**PRECISA ACESSAR ESSE LINK PARA ENTRAR NA SALA:**



<https://meet.jit.si/1ANO-TURMAS111E112>

CLIQUE NA EXPLICAÇÃO DA PROF. ÂNDRIA SOBRE AS ATIVIDADES  
DESEGUNDA- FEIRA.

<https://drive.google.com/open?id=144NTNp7tGB39U4GjYnF2wGyL0THspr-z>

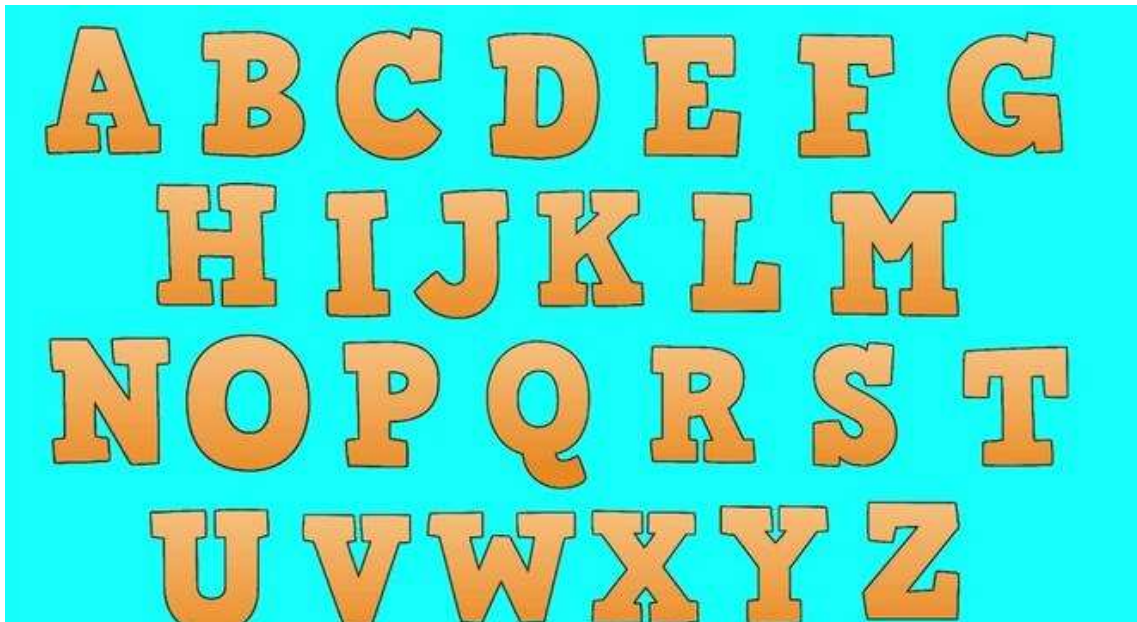
PORTO ALEGRE 20 DE ABRIL DE 2020.

BOA TARDE!


ROTINA

- LINGUAGEM
- MATEMÁTICA

- 1) **DESENHE UM OBJETO PARA CADA LETRA DO ALFABETO** E COM A AJUDA DE UM ADULTO, ESCREVA O NOME DESTE OBJETO AO LADO DO DESENHO.



2) OBSERVE A CENA E RESPONDA:



A) QUANTAS CRIANÇAS ESTÃO BRINCANDO NO BALANÇO? \_\_\_\_\_

B) QUANTAS BRINCAM NO ESCORREGADOR? \_\_\_\_\_

C) QUANTAS BRINCAM NA CAIXA DE AREIA? \_\_\_\_\_

D) QUANTAS CRIANÇAS AO TODO? \_\_\_\_\_


PORTO ALEGRE 22 DE ABRIL DE 2020.

BOA TARDE!

ROTINA

- LINGUAGEM
- CIÊNCIAS HUMANAS

1) LEIA COM AJUDA DE UM ADULTO O LIVRO DA  
ÁRVORE DE LIVROS – BICHOS DO JARDIM.



**SITE DA ÁRVORE DE LIVROS:** <https://www2.arvoredelivros.com.br/>

**2 FICHA DE LEITURA DO LIVRO:**

A) ESCREVA O NOME DO  
LIVRO: \_\_\_\_\_

B) AUTOR: \_\_\_\_\_

C) QUAIS BICHOS DO JARDIM TEM A LETRA **B** NO INÍCIO OU NO MEIO DA  
PALAVRA?ESCREVA O NOME  
DELES: \_\_\_\_\_.

D) AGORA MARQUE A SUA OPINIÃO SOBRE A HISTÓRIA:



GOSTEI



GOSTEI UM POUCO



NÃO GOSTEI

E) FAÇA UM DESENHO BEM CAPRICHADO E COLORIDO DA PARTE QUE VOCÊ MAIS GOSTOU DA HISTÓRIA.

3) AGORA, FAÇA UM DESENHO BEM CAPRICHADO MOSTRANDO COMO É A SUA CASA, A SUA ESCOLA E A SUA RUA!

MINHA CASA MINHA ESCOLA MINHA RUA.

**MINHA CASA**

**MINHA ESCOLA**

**MINHA RUA**

















PORTO ALEGRE 23 DE ABRIL DE 2020.

BOA TARDE!

ROTINA


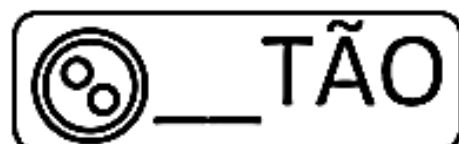
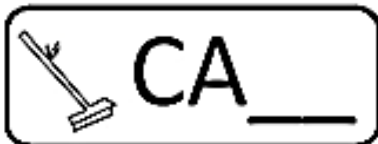
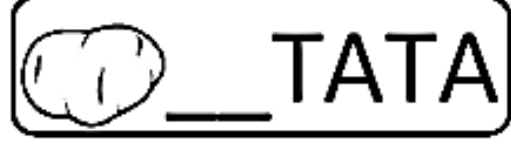
- LINGUAGEM
- MATEMÁTICA

1) PINTE AS BOLINHAS CONFORME O NÚMERO DE VEZES QUE VOCÊ ABRE A BOCA PARA FALAR OS NOMES DOS DESENHOS E DEPOIS ESCREVA O NOME DELES COMO SOUBER.


 ○○○○○	 ○○○○○	 ○○○○○	 ○○○○○
 ○○○○○	 ○○○○○	 ○○○○○	 ○○○○○
 ○○○○○	 ○○○○○	 ○○○○○	 ○○○○○
 ○○○○○	 ○○○○○	 ○○○○○	 ○○○○○

2) COMPLETE AS PALAVRAS COM:

BA - BE - BI - BO - BU



3) ESCREVA O RESULTADO DAS SOMAS :





PORTO ALEGRE 24 DE ABRIL DE 2020.

BOA TARDE!

ROTINA

- CIÊNCIAS DA NATUREZA
- MATEMÁTICA

**CIÊNCIAS DA NATUREZA (DIVERSIDADE DE MATERIAIS)**


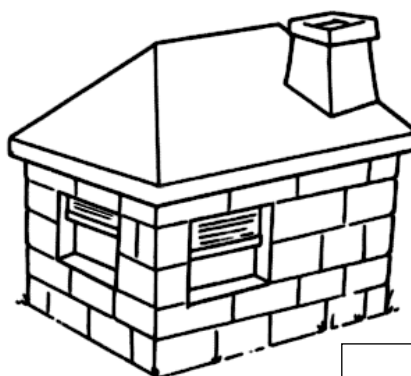
OS TRÊS PORQUINHOS

- 1) CLIQUE NO LINK, ASSISTA AO VÍDEO COM A HISTÓRIA DOS TRÊS PORQUINHOS E FAÇA AS ATIVIDADES A SEGUIR.

<https://www.youtube.com/watch?v=N84TDkRoG0o>

A) PINTE AS CASAS DOS TRÊS PORQUINHOS E RESPONDA:

B) DE ACORDO COM A HISTÓRIA, QUAIS FORAM OS MATERIAIS UTILIZADOS NA CONSTRUÇÃO DAS CASAS DOS PORQUINHOS? COM AJUDA DE UM ADULTO, ESCREVA NOS RETÂNGULOS O NOME DO MATERIAL UTILIZADO PARA CONSTRUIR CADA CASA DOS TRÊS PORQUINHOS.



C) QUAL DOS MATERIAIS É MAIS RESISTENTE? \_\_\_\_\_

3) COMPLETE OS QUADROS COM AS INFORMAÇÕES PEDIDAS:

	<p>HAVIA NO CAMPO .....CACHORRINHOS.</p> <p>CHEGARAM MAIS ..... CARNEIRINHOS.</p> <p>AGORA, EXISTEM ..... ANIMAIS NO CAMPO.</p>
-----------------------------------------------------------------------------------	---------------------------------------------------------------------------------------------------------------------------------------------

	<p>QUANTOS URSOS?.....</p> <p>QUANTOS PATOS? .....</p> <p>QUANTOS ANIMAIS VOCÊ ESTÁ VENDO? .....</p>
-----------------------------------------------------------------------------------	----------------------------------------------------------------------------------------------------------

	<p>QUANTOS IOIÔS?.....</p> <p>QUANTAS BONECAS? .....</p> <p>QUANTOS BRINQUEDOS? .....</p>
-------------------------------------------------------------------------------------	---------------------------------------------------------------------------------------------------

	<p>QUANTAS BOLAS?.....</p> <p>QUANTOS ROBÔS? .....</p> <p>QUANTOS BRINQUEDOS? .....</p>
-------------------------------------------------------------------------------------	---------------------------------------------------------------------------------------------